



UNIVERSIDADES PÚBLICAS DE LA COMUNIDAD DE MADRID
EVALUACIÓN PARA EL ACCESO A LAS ENSEÑANZAS
UNIVERSITARIAS OFICIALES DE GRADO

Curso **2017-2018**

MATERIA: GEOGRAFÍA

INSTRUCCIONES GENERALES Y CALIFICACIÓN

Después de leer atentamente todas las preguntas, el alumno deberá escoger **una** de las dos opciones propuestas y responder a las cuestiones de la opción elegida.

CALIFICACIÓN: El valor de las preguntas se asigna al final de su enunciado.

TIEMPO: 90 minutos.

OPCIÓN A

SECCIÓN TEÓRICA

1ª Parte: Tema “La distribución espacial de la población en España”.

Desarrolle, de manera sintética, el tema propuesto atendiendo a los siguientes apartados (utilice, como máximo, una cara y media de un folio):

1. Principales características.
2. Causas y consecuencias.

Puntuación máxima: 2,5 Puntos

2ª Parte: Defina con precisión ocho de los diez **conceptos** siguientes (escriba, como máximo, una cara de un folio):

Paisaje natural, Energía eólica, Bosque mediterráneo, Anticiclón, Matorral, Regadío, Meandro, Régimen térmico, Pradera, Transporte aéreo.

Puntuación máxima: 2 Puntos

SECCIÓN PRÁCTICA

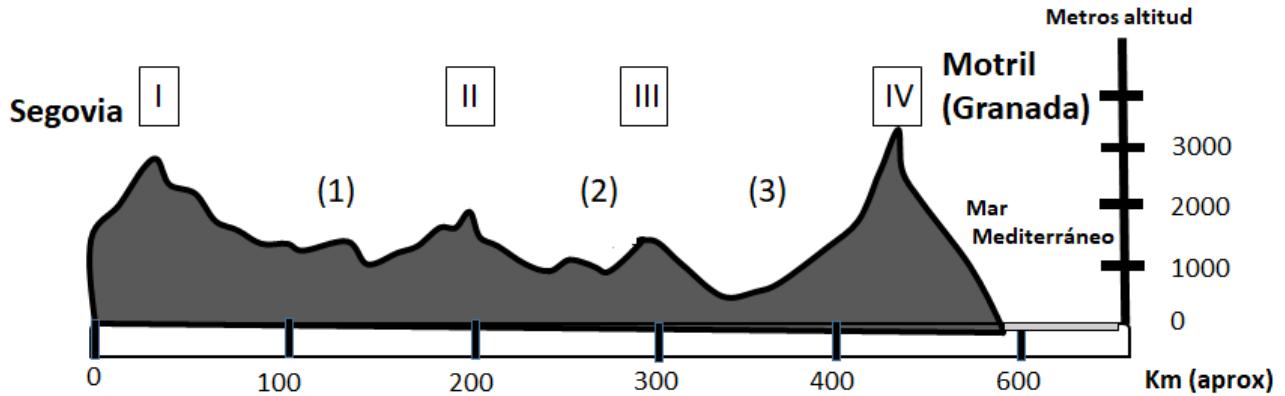
3ª Parte: Comente la **lámina etiquetada con la Opción A**, en el siguiente orden:

1. Elementos del medio físico.
2. Elementos del medio humano.
3. La relación entre ellos.
4. Indique el tipo de paisaje geográfico que muestra la fotografía.

Puntuación máxima: 1,5 Puntos

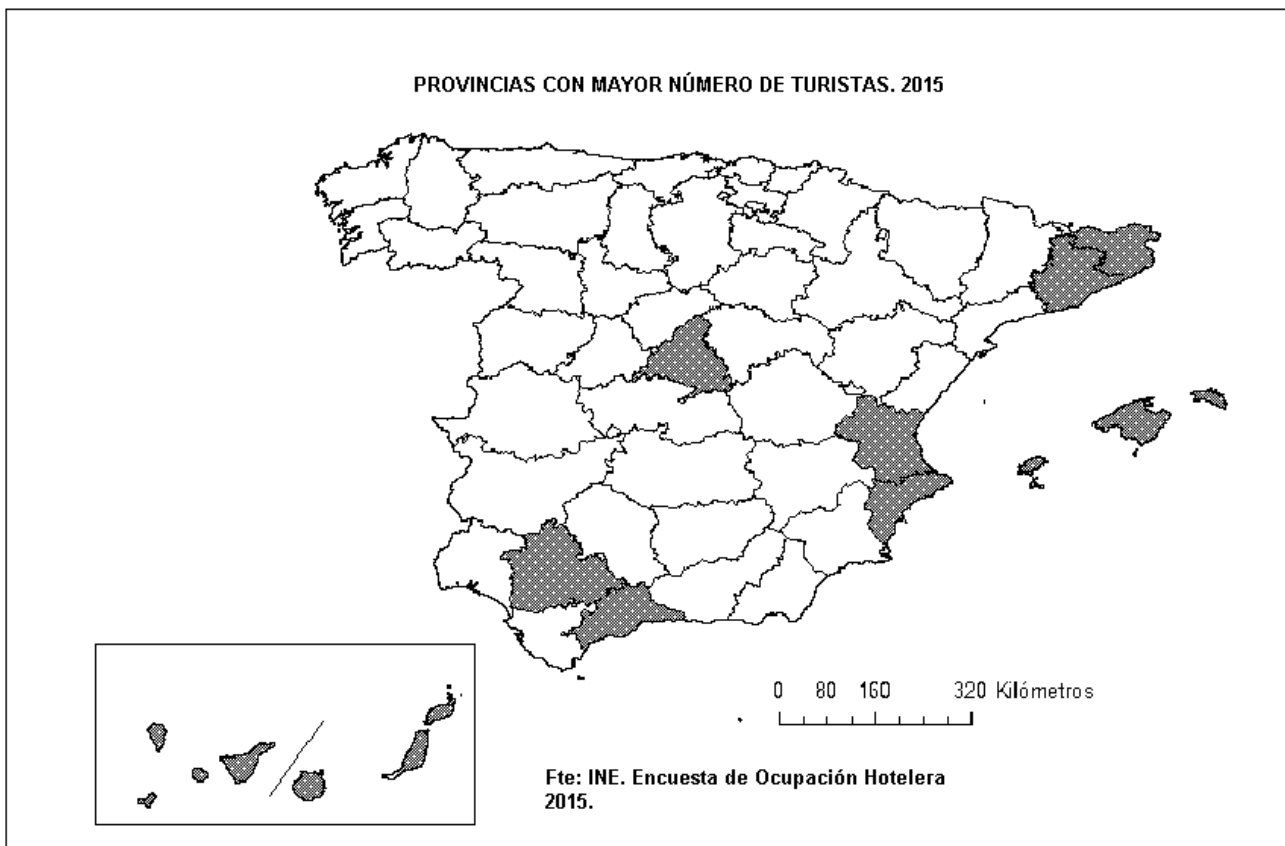
4ª Parte: Comente el siguiente perfil entre Segovia y Motril (Granada), señalando el nombre y los principales rasgos geológicos que caracterizan los sistemas montañosos I, II, III, y IV, y las cuencas hidrográficas 1,2 y 3.

PERFIL TOPOGRÁFICO ESQUEMÁTICO SEGOVIA – MOTRIL (GRANADA)



Puntuación máxima: 2 Puntos

5ª Parte: A la vista del mapa adjunto, “**Provincias con mayor número de turistas (2015)**”, indique el nombre de las provincias tramadas y comente las posibles causas de este hecho.



Puntuación máxima: 2 Puntos

OPCIÓN B

SECCIÓN TEÓRICA

1ª Parte: Tema "La hidrografía peninsular".

Desarrolle, de manera sintética, el tema propuesto atendiendo a los siguientes apartados (utilice, como máximo, una cara y media de un folio):

1. Las principales cuencas fluviales y sus características.
2. Aprovechamientos hídricos más importantes.

Puntuación máxima: 2,5 Puntos

2ª Parte: Defina con precisión ocho de los diez **conceptos** siguientes: (escriba, como máximo, una cara de un folio):

Residencia secundaria, Envejecimiento de la población, Geografía humana, Transgresión marina, Área metropolitana, Penillanura, Fiordo, Meseta, Pesca de bajura, Zócalo.

Puntuación máxima: 2 Puntos

SECCIÓN PRÁCTICA

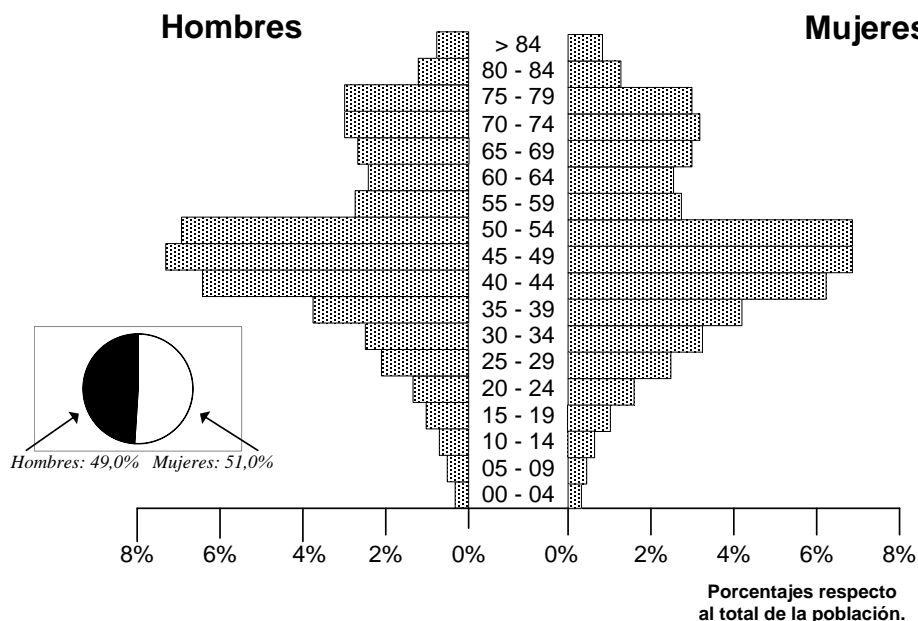
3ª Parte: Comente la **lámina etiquetada con la Opción B**, en el siguiente orden:

1. Elementos del medio físico.
2. Elementos del medio humano.
3. La relación entre ellos.
4. Indique el tipo de paisaje geográfico que muestra la fotografía.

Puntuación máxima: 1,5 Puntos

4ª Parte: A partir de la siguiente pirámide de población realice un comentario y explique las posibles razones de esta distribución por edad y sexo de la población de Alemania empadronada en España.

Población extranjera empadronada en España y nacida en Alemania por edades y sexos. 1 enero 2017



Fuente; INE, 2017

Puntuación máxima: 2 Puntos

GEOGRAFÍA

CRITERIOS ESPECÍFICOS DE CORRECCIÓN Y CALIFICACIÓN

A) CRITERIO GENERAL:

La puntuación total será, en ambas pruebas, de **10 puntos**. Cada Opción tiene una **Sección Teórica formada por las partes 1 y 2 (4,5 puntos)** y una **Sección Práctica formada por las partes 3, 4 y 5 (5,5 puntos)**, correspondiendo a la primera parte **2,5 puntos**; a la segunda **2 puntos**; a la tercera **1,5 puntos**, a la cuarta, **2 puntos**, y a la quinta parte **2 puntos**. La estructura y los criterios de **corrección** serán los siguientes, tanto para la **Opción A** como para la **Opción B**.

B) CRITERIOS CONCRETOS:

1ª parte: 2,5 puntos

Trata del “*desarrollo de un tema*”, valorando fundamentalmente la ordenación, la estructuración, la coherencia expositivo-argumentativa, la claridad, la precisión y la organización sintética de los conocimientos, junto con la correcta localización, la comprensión y caracterización de los fenómenos geográficos que se suman al grado y profundidad de los conocimientos. **La puntuación asignada a esta pregunta se distribuirá equitativamente entre los subepígrafos del enunciado.**

2ª parte: 2 puntos

Definición de una serie de *términos geográficos y conceptos*. Las respuestas deberán valorarse con un criterio amplio, ya que son numerosas las posibilidades expresivas correctas. En todo caso, se atenderá a la precisión geográfica en la caracterización del término o concepto, y a la claridad conceptual.

3ª parte: 1,5 puntos

El estudiante ha de interpretar una imagen de paisaje geográfico. Las respuestas deberán valorarse con un criterio amplio, ya que son numerosas las posibilidades expresivas correctas.

4ª parte: 2 puntos

Se propone “*el comentario de un documento geográfico, gráfico, estadístico*”.

5ª parte: 2 puntos

Se valorará la localización del hecho cartografiado, así como su correcta explicación. **Cada localización correcta de las diez posibles tendrá un valor de 0,10 puntos.**

En las cinco partes de que consta la prueba, se considerarán elementos de ponderación; v.gr.: la calidad de la redacción, la corrección expositivo-argumentativa, la gramatical y la ortográfica.

GEOGRAFÍA

LÁMINA OPCIÓN A



LÁMINA OPCIÓN B

