

PRUEBA DE IDENTIFICACIÓN

Pruebas Técnico Superior Gestión Forestal
y del Medio Natural

FITOPATOLOGÍA

1. ¿Qué déficit produce este daño?



2. ¿Qué deficiencia está presentando este daño?



3. ¿Qué especie es?



4. ¿Qué especie es?



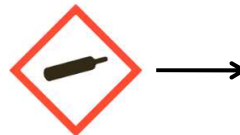
5. ¿Qué especie es?




6. ¿Qué especie es?



7. ¿Qué significan estos pictogramas?




8. ¿Qué significan estos pictogramas?



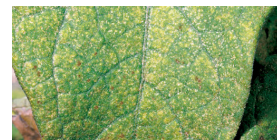
9. ¿Qué agente produce estos daños?



10. ¿Qué especie es?



11. ¿Qué clase de artrópodos hace los siguientes daños?



12. ¿Qué especie es?



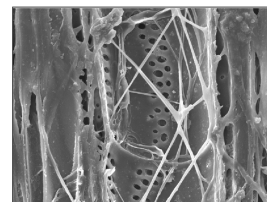
13. ¿Qué especie es?



14. ¿Qué orden de insectos producen estos daños?



15. ¿Qué plaga/enfermedad trae comúnmente este insecto?



16. ¿Qué nombre tiene esta especie muy utilizada en control biológico?



17. ¿Qué especie es?



18. ¿Qué especie es?



19. ¿Qué agente biótico produce este daño?



20. ¿Cómo se denomina esta plaga/enfermedad?



21. ¿Cómo se denomina esta plaga/enfermedad?



22. ¿Qué especie es?



23. ¿Qué plaga/enfermedad representa la imagen?

