


# **PRUEBA DE IDENTIFICACIÓN**

Pruebas Técnico Superior Gestión Forestal  
y del Medio Natural

**GESTIÓN DE LA PESCA CONTINENTAL**

# 1. ¿Qué especie es?



## 2. ¿Qué especie es?



3. ¿Qué especie es?



#### 4. ¿Qué especie es?





5. ¿Qué especie es?



## 6. ¿Qué especie es?



7. ¿Qué especie es?





8. ¿Qué especie es?




9. ¿Qué especie es?



10. ¿Qué especie es?



11. ¿Cómo se denomina este instrumento?





12. ¿Qué especie es?





13. ¿Cómo se denominan estas estaciones?



14. ¿Qué especie es?



15. ¿Qué especie es?





16. ¿Qué sistema para pasos de peces se muestra a continuación?

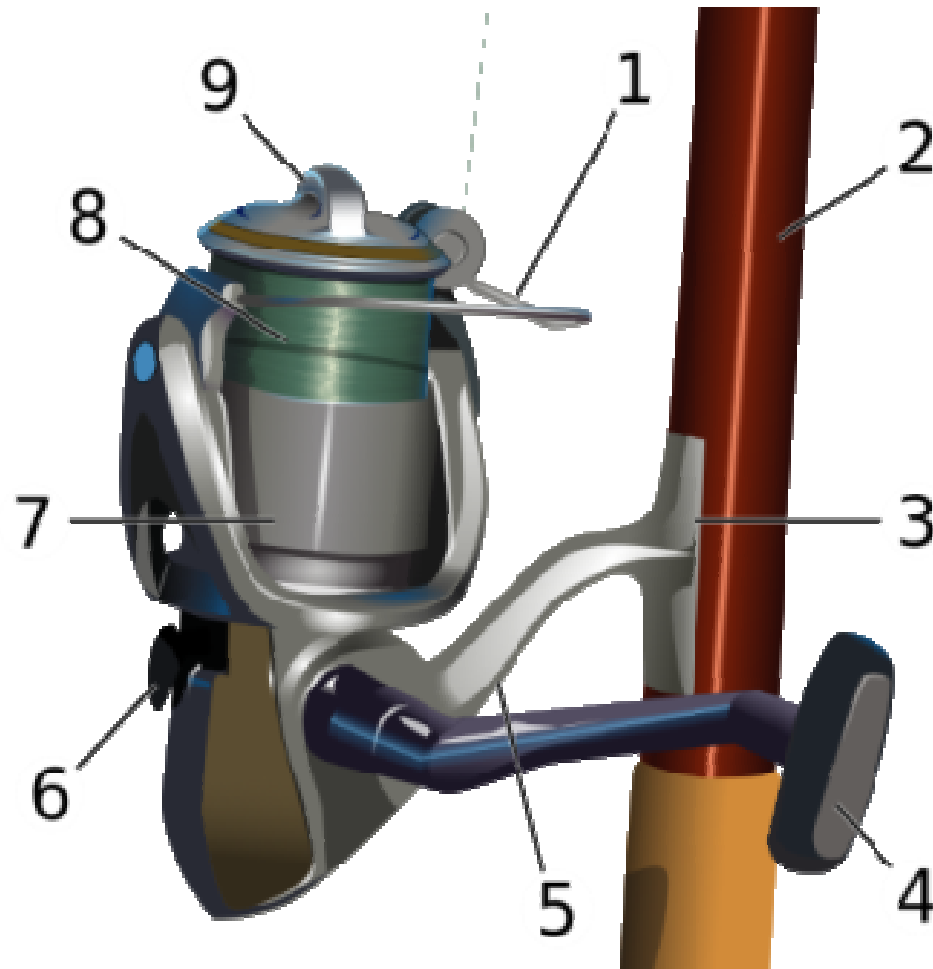


17. ¿Qué actividad se está realizando?





18. ¿Qué tipo de carrete se muestra en la imagen que se expone a continuación?



19. ¿Qué tipo de señuelos se muestran a continuación?



20. ¿Qué trampa se muestra a continuación?



21. ¿Qué accidente geográfico se muestra a continuación?





## 22. ¿Qué especie es?





23. ¿Qué especie es?



24. ¿Cómo se denomina este sistema de pesca?

